

Місце штрих-коду роботи.
Наклеє інструктор

Код екзаменатора

ТЕСТ II
Частина 1

2018 Моніторингове дослідження
якості початкової освіти

Твій новий велосипед

ЗОШИТ ІЗ ЗАВДАННЯМИ

Час виконання 40 хвилин



МІНІСТЕРСТВО
ОСВІТИ І НАУКИ
УКРАЇНИ



УКРАЇНСЬКИЙ
ЦЕНТР
ОЦІНЮВАННЯ
ЯКОСТІ ОСВІТИ



ІНСТИТУТ
РОЗВИТКУ ОСВІТИ

Інструкція

Прочитай текст і виконай завдання до нього. Текст ти знайдеш у кольоровій книжці для читання, а завдання – у цьому зошиті. У будь-який момент ти можеш повернутися до тексту й перечитати його.

На прочитання тексту й виконання завдань відведено 40 хв. Деякі із завдань здаватимуться тобі легкими, інші – складними. Намагайся виконати всі завдання, які зможеш.

Деякі завдання мають чотири варіанти відповіді, які позначено літерами. У прикладі 1 наведено таке завдання й показано, як треба позначати кружечком правильну відповідь.

Приклад 1. Скільки днів у тижні?

А 5

Б 6

В 7

Г 8

Якщо ти не впевнений / не впевнена у своїй відповіді, познач той варіант, який, на твою думку, більш за все є правильним, і переходь до наступного завдання.

Якщо ти вирішиш змінити відповідь, то замалюй її й познач нову, яку вважаєш правильною. У прикладі 2 показано, як це можна зробити.

Приклад 2. Скільки днів у тижні?

А 5

Б 6

В 7

Г 8

У деяких завданнях потрібно записати свою відповідь у спеціально відведеному для цього місці. Приклади 3, 4 і 5 показують, як це зробити.

Приклад 3. Як ти вважаєш, чому автор назвав героя оповідання саме так? Запиши свою відповідь.

Автор хотів показати його мужність і силу.

Приклад 4. Із якої країни був чоловік?

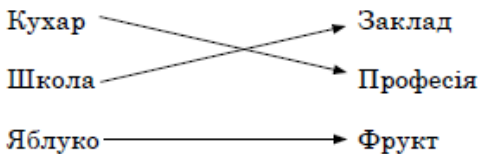
З Італії.

Приклад 5. Через який час зустрілися друзі?

Через 7 років.


Є також завдання, де потрібно поєднати уривки з тексту зі словами або зображеннями, які їм відповідають. Використовуй для цього стрілочки, як показано в прикладі 6.

Приклад 6.



В окремих завданнях ти працюватимеш із картою. Наприклад, будеш прокладати маршрут, описаний у тексті, або вибирати правильний маршрут із кількох. Як прокласти маршрут, показано в прикладі 7.

Приклад 7.



Якщо ти не знаєш, як відповісти на якесь із завдань, пропусти його й переходь до іншого. Може статися, що, виконавши всі завдання в зошиті, ти ще матимеш час. Тоді ти зможеш повернутися до завдань, які не вдалося виконати раніше, і подумати над ними ще.

Бажаємо тобі успіху!

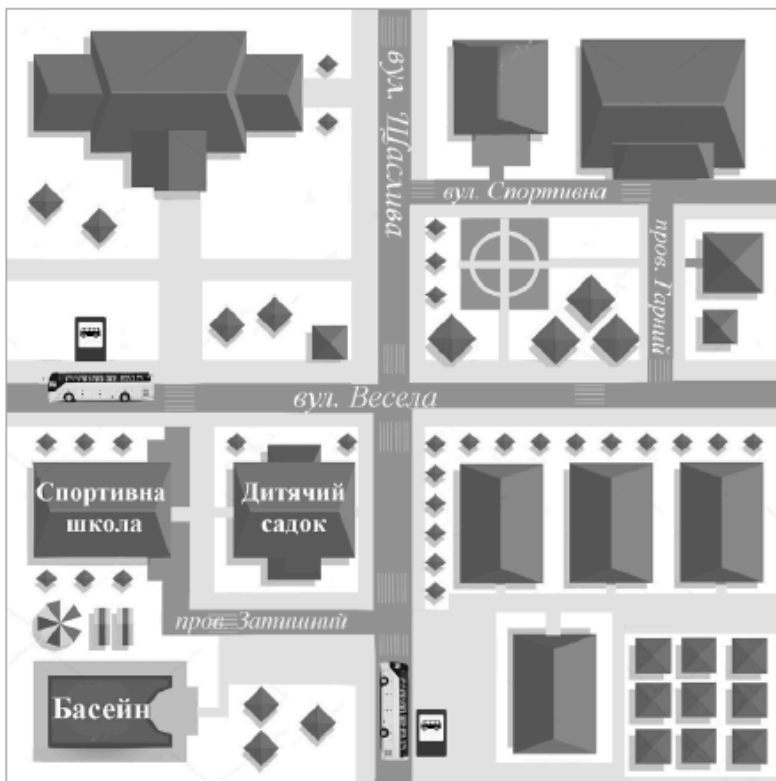
R1711010B		
01	02	03
11	12	13
21	22	
38	39	

1. Софійка зранку дісталася автобусом до басейну, а після тренування відвідала магазин «Велоспорт».

Вийшовши з басейну після плавання, Софійка повернула ліворуч, пройшла до вулиці Весела між дитячим садком та спортивною школою.

Перейшовши на протилежний бік вулиці Весела, дівчинка повернула праворуч і рушила пішохідною доріжкою в напрямку Гарного провулка. Пройшла провулком повз спортивний майданчик і дісталася центрального входу магазину «Велоспорт».

Намалюй на мапі маршрут, яким пройшла дівчинка від басейну до магазину.



2. Люди віддають перевагу велосипеду як виду транспорту, тому що він

R1721020A

- А абсолютно безпечний і надійний
- Б може долати будь-які відстані
- В однаково зручний і влітку, і взимку
- Г корисний для здоров'я людини

3. Який з велосипедів у магазині «Велоспорт» потребує постійного обслуговування в майстерні?

R1711020A

- А дорожній
- Б легкий дорожній
- В гірський
- Г складаний

4. Яким велосипедом можна їздити як велодоріжками, так і ґрунтовими дорогами?

R1711040B

- А дорожнім
- Б легким дорожнім
- В гірським
- Г складаним

5. Деталі дорожнього велосипеда мають бути добре захищеними від бруду, тому що він

R1721050A

- А має лише одну швидкість
- Б регулярно обслуговується
- В пересувається по асфальту
- Г їздить ґрунтовими дорогами

6. Прочитай опис складаного велосипеда.

Чим він відрізняється від усіх інших велосипедів?

Знайди відповідь і запиши її.

R1711050B

01	02
11	
21	
98	99

7. *Марійка мріє купити велосипед, який був би меншим за інші. Батьки можуть витратити на його покупку 4000 грн.*

Який велосипед куплять дівчинці батьки, якщо придуть до магазину «Велоспорт» у понеділок?

Запиши назву велосипеда. Напиши, чому батьки куплять Марійці саме його.

R1711030B

01	
11	12
21	
98	99

8. Чому для велосипедиста так важливо відрегулювати висоту сидла?

Знайди відповідь у тексті. Запиши її.

R1711060A

01	02
11	
21	22
98	99

9. Чому налокітники й наколінники потрібні більше новачкам, ніж іншим велосипедистам?

Пояснення запиши.

R1711070A

01	02
11	12
21	
98	99

10. Що обов'язково має надягнути кожен велосипедист для свого захисту?

А шолом

Б рукавички

В наколінники

Г налокітники

11. Чи корисна для новачків порада згадати їзду на самокаті, щоб скоріше опанувати велосипед?

Напиши, якої ти думки.

R1711080A

R1711090A

01	02
11	12
21	22
98	99

12. Де дозволено їздити на велосипеді дитині 11 років?

- А автомобільною дорогою
- Б міськими тротуарами
- В лісовими стежками
- Г швидкісною трасою

R1711100B

13. Які з порад потрібні велосипедисту, щоб навчитися тримати рівновагу під час їзди?

Напиши про це.

R1711110B

01 02

11 12 13

21

98 99

14. Для чого в рекламному проспекті магазину «Велоспорт» використали кілька кольорів і букви різної величини? Своє міркування запиши.

R1711120A

01 02

11 12 13

21

98 99

