

Завдання 1–20 мають по чотири варіанти відповіді, з яких лише один правильний. Виберіть правильний, на Вашу думку, варіант відповіді.

1. Прочитайте уривок джерела.

*«Ми з Богом зібрані на черговім соборі в Бересті, у соборній церкві святого Миколая, Митрополит і єпископи грецького обряду, нижче підписані, на вічну пам'ять проголошуємо, щоб найвищий пастир Вселенської Католицької церкви прийняв нас під свій послух...»*

Коли відбулася подія, про яку йдеться в уривку?

- А 1596 р.
- Б 1620 р.
- В 1632 р.
- Г 1649 р.

2. Діяльність якого гетьмана так характеризував історик Михайло Грушевський: *«...записавши військо в братство, дав йому не тільки право, але й обов'язок виступати в усіх братських справах у ролі його членів, зв'язав братство як... козацьке представництво в церковних і національних справах...»?*

- А Д. Вишневецького (Байди)
- Б П. Конашевича-Сагайдачного
- В Т. Федоровича (Трясила)
- Г К. Косинського

3. Прочитайте уривок джерела.

*«У Московщині панує найогидніше рабство. Там немає і бути не може нічого власного, бо все є власністю царя. Московські бояри титулюють себе “рабами царськими”. Увесь народ московський є рабом. У Московії продають людей на базарі, як у нас худобу. Приєднатися до такого народу – це гірше, як скочити живим у вогонь...»*

Такими словами аргументував полковник Іван Богун свою позицію щодо недоцільності укладання

- А «Березневих статей».
- Б Гадацьких пунктів.
- В Зборівського договору.
- Г Віленського перемир'я.

4. Наведена картосхема дає змогу визначити райони, охоплені повстанням проти гетьмана



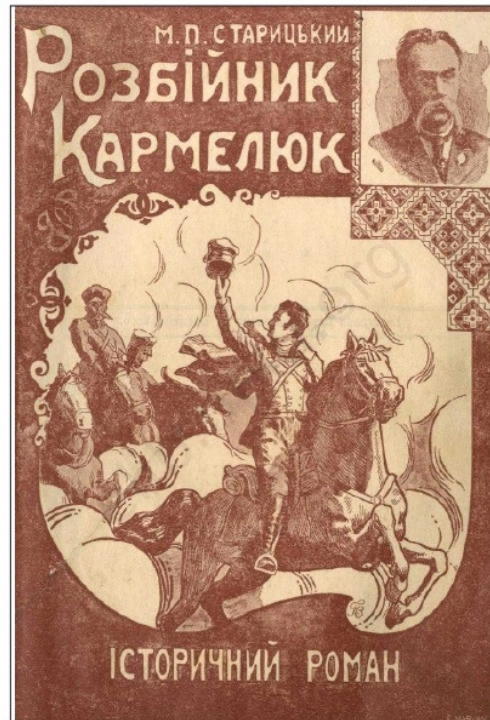
- А П. Тетері.
- Б І. Виговського.
- В І. Брюховецького.
- Г Д. Многогрішного.

5. «Люди в ньому [Батурині] ...вирубані, церкви зруйновані, будинки розграбовані й спалені...» – такий погром міста влаштували 1708 року війська

- А московські.
- Б турецькі.
- В шведські.
- Г польські.

6. Книгу, зображену на фото, присвячено історичним подіям на

- А Слобожанщині.
- Б Прикарпатті.
- В Поділлі.
- Г Лівобережжі.



7. Створення і діяльність освітнього товариства галицьких греко-католицьких священників і «Руської трійці» свідчили про

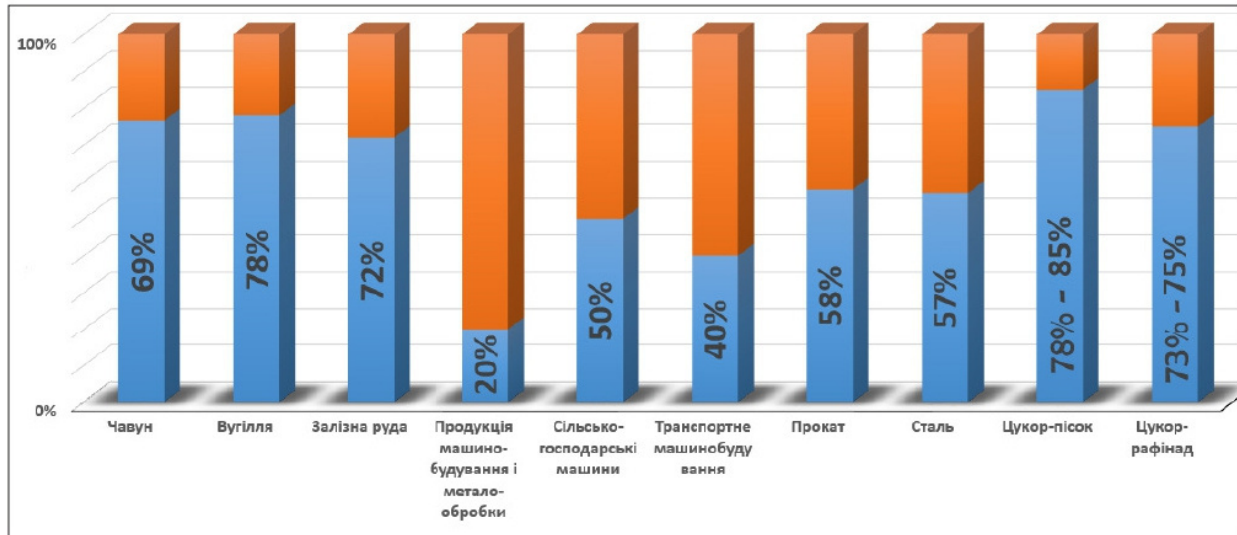
- А початок національного відродження на західноукраїнських землях.
- Б політизацію українського руху в межах Австрійської імперії.
- В розгортання національного руху під релігійними гаслами.
- Г переорієнтацію українського руху на Російську імперію.

8. Яку постать провідника українського руху другої половини XIX ст. увічнено на світлині?

- А Івана Котляревського
- Б Тараса Шевченка
- В Павла Чубинського
- Г Володимира Антоновича



9. Для якого регіону українських земель характерне виготовлення основних видів продукції, частки яких відображено на діаграмі, порівняно із загальноімперським 1913 р.?



- А Галичини
- Б Закарпаття
- В Волині
- Г Наддніпрянщини

10. Українська Центральна Рада існувала протягом

- А 1905–1907 рр.
- Б 1914–1916 рр.
- В 1917–1918 рр.
- Г 1919–1922 рр.

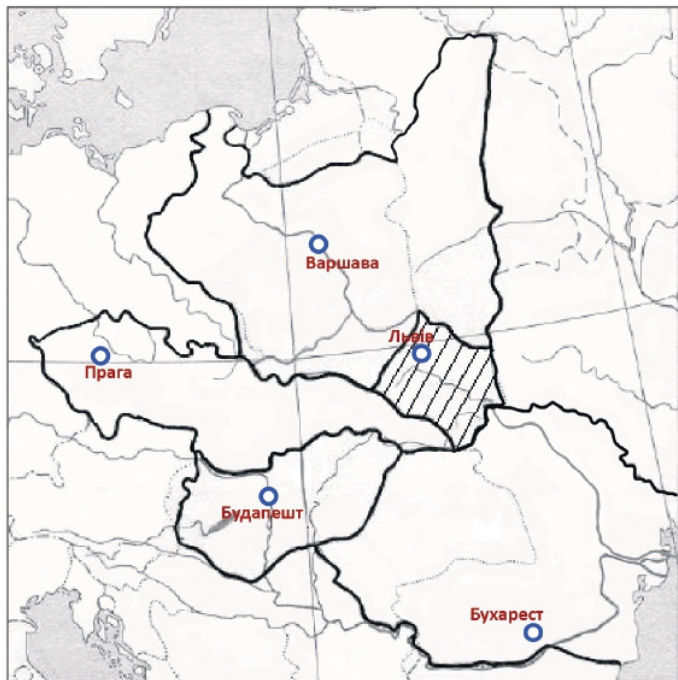
11. Що зумовило появу газетного повідомлення, уривок якого наведено:  
«У Київ очікується приїзд професора М. Грушевського, засланоного в адміністративному порядку в Симбірськ... Ужиті заходи зі звільнення греко-католицького митрополита Шептицького, а також із повернення з Далекого Сходу всіх українців-галичан. Відновлюється закрите адміністрацією українське товариство "Просвіта"...»?

- А початок Першої світової війни
- Б більшовицький переворот у Росії
- В ухвалення Акту Злуки УНР і ЗУНР
- Г початок Української революції

12. Гасла, відображені на радянських агітаційних плакатах, були невід'ємною складовою реалізації



- А «воєнного комунізму».
  - Б нової економічної політики.
  - В «Великого перелому».
  - Г «Великого терору».
13. Якого року після Першої світової війни було визначено статус території, позначеної на картосхемі штрихуванням?



- А 1918 р.
- Б 1919 р.
- В 1921 р.
- Г 1923 р.

14. Поняття «розстріляне відродження» використовують, характеризуючи наслідки репресивної політики комуністичного режиму, спрямованої на фізичне знищення

- А українського селянства.
- Б українського робітництва.
- В української творчої інтелігенції.
- Г українського партійно-радянського керівництва.

15. Якій країні, союзниці Німеччини в Другій світовій війні, в управління було передано частину території України, загарбаної в 1941 р.?
- А Італії
  - Б Угорщині
  - В Румунії
  - Г Словаччині
16. *«15 червня 1947 р. село було оточене військом. Чотири години на підготовку – і в дорогу. Куди? За що? Благали, просили – нічого не допомагало. Вивезли...»*, – так житель Холмщини Яків Самошук коротко згадує про операцію
- А «Вісла».
  - Б «Захід».
  - В «Хвиля».
  - Г «Ост».
17. Створення 1957 року на території УРСР «раднаргоспів» є свідченням
- А прагнення позбавити компартію можливості втручатися в управління економікою.
  - Б пошуку ефективної моделі управління промисловістю та сільським господарством.
  - В успіхів у відбудові промисловості та сільського господарства республіки.
  - Г продовження політики колективізації селянських господарств у республіці.
18. У якому уривку оцінено політичний курс перебудови?
- А *«Він, підвищивши рівень життя населення західноєвропейських країн, зміцнив політичну стабільність у регіоні та створив абсолютно нову, небачену досі, атмосферу співробітництва, взаємодопомоги й підтримки у відносинах між Західною Європою і Сполученими Штатами...»*
  - Б *«Проголошення цього курсу – важлива віха в історії. Він змінив життя сотень мільйонів громадян Радянського Союзу й країн Східної Європи. Найважливішим його надбанням стало знищення тоталітаризму, який упродовж 74 років сковував радянське суспільство...»*
  - В *«Цей курс виявився лише спробою відійти від жорсткої тоталітарної системи з її жахіттями кривавого терору, однак... лібералізація в жодному разі не зачіпала основ політичного устрою Радянського Союзу та підвалин його суспільного буття...»*
  - Г *«Він ствердив виключне право СРСР в умовах, коли виникає загроза справі соціалізму в країнах Східної Європи, загроза безпеці соціалістичної співдружності в цілому, на втручання у внутрішні справи країн, уключно з використанням військової сили...»*

19. Які проблеми 1990-х рр. відображено на фото?



- А політичні
- Б соціально-економічні
- В культурно-освітні
- Г релігійні

20. У якому році Національним банком України випущено монету, зображену на фото?



- А 2001 р.
- Б 2006 р.
- В 2010 р.
- Г 2012 р.

У завданнях 21–24 до кожного із чотирьох фрагментів інформації, позначених цифрами, доберіть один правильний, на Вашу думку, варіант відповіді, позначений буквою.

21. Узгодьте подію другої половини XVI – першої половини XVII ст. (1–4) з її наслідком для українських земель (А – Д).

- |   |   |   |                                  |
|---|---|---|----------------------------------|
| 1 | утворення Речі Посполитої                       | А | реформування православної церкви |
| 2 | укладення Берестейської унії                    | Б | масове покаяння селянства        |
| 3 | заснування перших православних братств у Львові | В | поширення фільварків             |
| 4 | обрання П. Могили Київським митрополитом        | Г | започаткування книгодрукування   |
|   |   | Д | розкол православної церкви       |

	А	Б	В	Г	Д
1					
2					
3					
4					


22. Узгодьте назву видання (1–4) з його характеристикою (А – Д).

- |   |                      |   |  |
|---|----------------------|---|--|
| 1 | «Історія Русів»      | А | перший український суспільно-політичний і літературно-мистецький журнал, що видавала в Петербурзі українська громада в 1861–1862 рр.   |
| 2 | «Основа»             | Б | український громадсько-політичний і науково-літературний збірник, що видавав у Женеві М. Драгоманов у 1878–1879 рр. та 1882 р.   |
| 3 | «Громада»            | В | одна з найвизначніших пам'яток української історичної та суспільно-політичної думки другої половини XVIII – початку XIX ст., у якій обстоювали ідею самостійного державного розвитку України |
| 4 | «Самостійна Україна» | Г | публіцистичний твір, написаний 1900 року М. Міхновським як програма Революційної української партії  |
|   |                      | Д | щомісячний історико-етнографічний і літературний часопис, який видавали в Києві російською й українською мовами протягом 1882–1906 рр.   |

	А	Б	В	Г	Д
1					
2					
3					
4					



23. Визначте авторство (А – Д) зображених на фото картин (1–4).



- А Т. Яблонська
- Б К. Білокур
- В М. Примаченко
- Г В. Касіян
- Д Г. Нарбут

	А	Б	В	Г	Д
1					
2					
3					
4					

24. Узгодьте історичний період (1–4) із подією (А – Д).

- 1 Україна в перші повоєнні роки (1945 – початок 1950-х рр.)
- 2 Україна в умовах деєсталінізації (1953–1964 рр.)
- 3 Україна в період загострення кризи радянської системи (1965–1985 рр.)
- 4 Відновлення незалежності України (1985–1991 рр.)

- А депортація частини населення західних областей України внаслідок здійснення операції «Захід»
- Б утворення Народного комісаріату закордонних справ УРСР
- В повстання політичних в'язнів у сталінських концтаборах, ліквідація Головного управління таборів (ГУТабу)
- Г утворення Української громадської групи сприяння виконанню Гельсінських угод (УГГ)
- Д проведення альтернативних виборів до Верховної Ради УРСР

	А	Б	В	Г	Д
1					
2					
3					
4					

У завданнях 25–27 розташуйте події в хронологічній послідовності.  
Цифри 1 має відповідати вибрана Вами перша подія, цифри 2 – друга,  
цифри 3 – третя, цифри 4 – четверта.

25. Установіть послідовність подій на західноукраїнських землях першої половини XIX ст.

- А створення освітнього товариства галицьких греко-католицьких священників
- Б початок діяльності «Руської трійці»
- В видання першої українськомовної газети «Зоря Галицька»
- Г видання альманаху «Русалка Дністровая»

	А	Б	В	Г
1				
2				
3				
4				

26. Установіть послідовність фактів біографії діяча, зображеного на фото.



- А президент Карпатської України
- Б в'язень радянських тюрем
- В засновник Учителівської громади Підкарпатської Русі
- Г ректор Українського вільного університету в Празі

	А	Б	В	Г
1				
2				
3				
4				

27. Установіть послідовність подій періоду розпаду Радянського Союзу й відродження незалежності України.

- А ухвалення Декларації про державний суверенітет України
- Б утворення Народного руху України за перебудову
- В катастрофа на Чорнобильській АЕС
- Г перші альтернативні вибори до Верховної Ради УРСР

	А	Б	В	Г
1				
2				
3				
4				

**Завдання 28–30 мають по сім варіантів відповіді, з яких лише три правильні. Виберіть три цифри, що позначають правильні, на Вашу думку, відповіді.**

28. У яких твердженнях схарактеризовано життя і діяльність митрополита Петра Могили?

- 1 Єрусалимський патріарх Феофан 1620 р. висвятив його на Київського митрополита
- 2 брав участь у заснуванні Богоявленського братства в Києві
- 3 домігся від польської влади визнання відновлення вищої православної церковної ієрархії
- 4 був автором богослужбової книги «Требник»
- 5 був соратником гетьмана Б. Хмельницького під час Національно-визвольної війни
- 6 до обрання митрополитом був архімандритом Києво-Печерської лаври
- 7 визнав право московського патріарха на Київську митрополію

29. Укажіть країни, із арміями та збройними формуваннями яких Українська повстанська армія (УПА) вела боротьбу в 1943–1947 рр.

- 1 Німеччина
- 2 Польща
- 3 Радянський Союз
- 4 Чехословаччина
- 5 Румунія
- 6 Велика Британія
- 7 Югославія

30. Що було характерним для розвитку сільського господарства УРСР у перші повоєнні роки?

- 1 запровадження орендних відносин на селі
- 2 колективізація в західних областях України
- 3 створення владою чергового масового штучного голоду
- 4 суттєве збільшення розмірів присадибних ділянок колгоспників
- 5 упровадження системи закупівель сільськогосподарської продукції
- 6 відновлення репресивної політики щодо селянства
- 7 насичення колгоспів різноманітною сільськогосподарською технікою

**Правильні відповіді до завдань сертифікаційної роботи**

<b>№</b>	<b>Відповідь</b>
1	А
2	Б
3	А
4	Б
5	А
6	В
7	А
8	Г
9	Г
10	В
11	Г
12	Б
13	Г
14	В
15	В
16	А
17	Б
18	Б
19	Б
20	Б
21	1–В, 2–Д, 3–Г, 4–А
22	1–В, 2–А, 3–Б, 4–Г
23	1–Д, 2–А, 3–Б, 4–В
24	1–А, 2–В, 3–Г, 4–Д
25	1–А, 2–Б, 3–Г, 4–В
26	1–В, 2–А, 3–Г, 4–Б
27	1–В, 2–Б, 3–Г, 4–А
28	346
29	123
30	236