

**ПРОБНЕ
ЗОВНІШНЄ НЕЗАЛЕЖНЕ ОЦІНЮВАННЯ
З ІСТОРІЇ УКРАЇНИ**
Час виконання – 150 хвилин

Робота має дві частини.

Частина 1 «Історія України ХХ – початку ХХІ ст.» містить 30 завдань різних форм. Відповіді на завдання частини 1 Ви маєте позначити та записати в бланку А.

Результат виконання цих завдань буде зараховано як результат державної підсумкової атестації.

Частина 2 «Історія України від найдавніших часів до кінця ХІХ ст.» містить 30 завдань різних форм. Відповіді на завдання частини 2 Ви маєте позначити та записати в бланку А.

Результат виконання завдань частин 1 і 2 буде використано під час прийому до закладів вищої освіти.

Інструкція щодо роботи в зошиті

1. Правила виконання зазначені перед завданнями кожної нової форми.
2. Відповідайте лише після того, як Ви уважно прочитали та зрозуміли завдання.
3. За необхідності використовуйте як чернетку вільні від тексту місця в зошиті.
4. Намагайтеся виконати всі завдання.

Інструкція щодо заповнення бланка відповідей А

1. У бланк А записуйте лише правильні, на Вашу думку, відповіді.
2. Відповіді вписуйте чітко, згідно з вимогами інструкції до кожної форми завдань.
3. Якщо Ви позначили відповідь на завдання 1–28 і 31–58 неправильно, можете виправити її, замалювавши попередню позначку та поставивши нову, як показано на зразку:



4. Якщо Ви записали відповідь на завдання 29, 30 і 59, 60 неправильно, можете виправити її у відповідному місці бланка А.
5. Ваш результат залежатиме від загальної кількості правильних відповідей, записаних у бланку А.

Ознайомившись з інструкціями, перевірте якість друку зошита та кількість сторінок. Їх має бути 20.

Позначте номер Вашого зошита у відповідному місці бланка А так:

1	2	3	4	5	6	7	8	9	10	11	12	13	14	15
X														

Зичимо Вам успіху!

Частина 1
Історія України ХХ – початку ХХІ століття

Пам'ятайте!

Результат виконання завдань частини 1 буде зараховано
як результат державної підсумкової атестації

Завдання 1–23 мають по чотири варіанти відповіді, з яких лише один правильний. Виберіть правильний, на Вашу думку, варіант відповіді, позначте його в бланку А згідно з інструкцією. Не робіть інших позначок у бланку А, тому що комп'ютерна програма реєструватиме їх як помилки!

Будьте особливо уважні під час заповнення бланка А!

Не погіршуйте власноручно свого результату неправильною формою запису відповідей

1. Проаналізуйте уривок з історичного джерела:

«...ми, українці, з початку війни зайняли нейтральну позицію й не виступали ні за, ні проти війни, а тепер постановили виступити рішуче проти війни, бо вона тільки нищить наш край, як уже знищила Галичину та частину Волині, і не принесе нічого корисного.

Володимир Леонтович та Андрій В'язлов висловилися проти такої рішучої заяви, бо вона йде всупереч з думками російської інтелігенції, що нас і так обвинувачує вже не тільки [російський] уряд, але й [російське суспільство] у сепаратизмі...».

Еволюцію поглядів якої організації відображено в ньому?

- А Револьюційної української партії
- Б Товариства українських поступовців
- В Головної української ради
- Г Союзу визволення України

2. Головою Української Центральної Ради обрано

- А П. Скоропадського.
- Б М. Грушевського.
- В В. Винниченка.
- Г С. Петлюру.

3. Із якою метою Директорія УНР ініціювала заходи, описані в уривку з історичного джерела:

«Ми, уповноважена волею трудящих України... Директорія, поваливши ненависний гетьманський режим, найближчим часом скличемо Конгрес усього трудового люду України. Делегатів обиратимуть на чесних і соціально справедливих засадах: від селянської курії – 71,4 %, від робітничої – 22,2 %, від трудової інтелігенції – 6,4 %...»?


- А узаконення повної націоналізації промислових підприємств і поміщицьких господарств
- Б санкціонування утворення Української автокефальної православної церкви
- В започаткування широкомасштабних заходів політики «коренізації»
- Г розв'язання проблем організації влади та визначення форми державного устрою

4. У ході «Чортківської офензиви» Українська Галицька армія примусила відступити
- А польську армію генерала Ю. Галлера.
 - Б Добровольчу армію генерала А. Денікіна.
 - В Револьюційну повстанську армію Н. Махна.
 - Г загони Червоної гвардії під командуванням М. Муравйова.


5. Укажіть портрет історичного діяча, який у 1920 р. був ініціатором воєнно-політичного союзу Української Народної Республіки з Польською Республікою.



А



Б



В



Г

6. Центральне партійно-радянське керівництво сприяло створенню умов для розвитку ринкових відносин в УСРР, удавшись до заходів
- А «воєнного комунізму».
 - Б «суцільної колективізації».
 - В «форсованої індустріалізації».
 - Г «нової економічної політики».
7. *«Ніде на базарах та квітникових крамницях не зосталося квіток – усі розкуплено задля привітання митрополита. Коло Софії робилося яесь столпотвореніє вавилонське... От тобі й боротьба з релігією!»* – згадував С. Єфремов про приїзд до Києва 19 вересня 1926 року митрополита
- А Й. Сліпого.
 - Б С. Скрипника.
 - В В. Липківського.
 - Г А. Шептицького.
8. Одним з місць поховання жертв «Великого терору» 1937–1938 рр. є
- А урочище Бабин Яр.
 - Б місто Базар.
 - В станція Крути.
 - Г урочище Биківня.

9. Який із зображених агітаційних плакатів 1930-х рр. доречно використовувати для визначення однієї з причин форсованої індустріалізації в СРСР?



Укріплюй оборону
СРСР!
Виконуй п'ятирічку
в чотири роки!

А



Дайош
індустріалізацію!

Б



Арифметика
зустрічного
промфінплану.
Плюс ентузіазм
робітників

В



Усі сили на
пришвидшення
темрів
завершення
п'ятирічки!

Г

**Проаналізуйте фрагмент історичного документа
та виконайте завдання 10–12 до нього.**

«Іменем Української Національної Ради Східної Галичини як легального представництва українського населення Східної Галичини висловлюю проти того рішення Конференції Амбасадорів з 14 березня рішучий протест та заявляю, що українське населення ніколи не погодиться з пануванням Польщі, домагається незалежної Галицької Держави вільних народів та боротиметься за неї далі».

10. Протест висловлено представникам

- А держав Осі.
- Б держав Антанти.
- В держав Четверного союзу.
- Г федерації радянських республік.

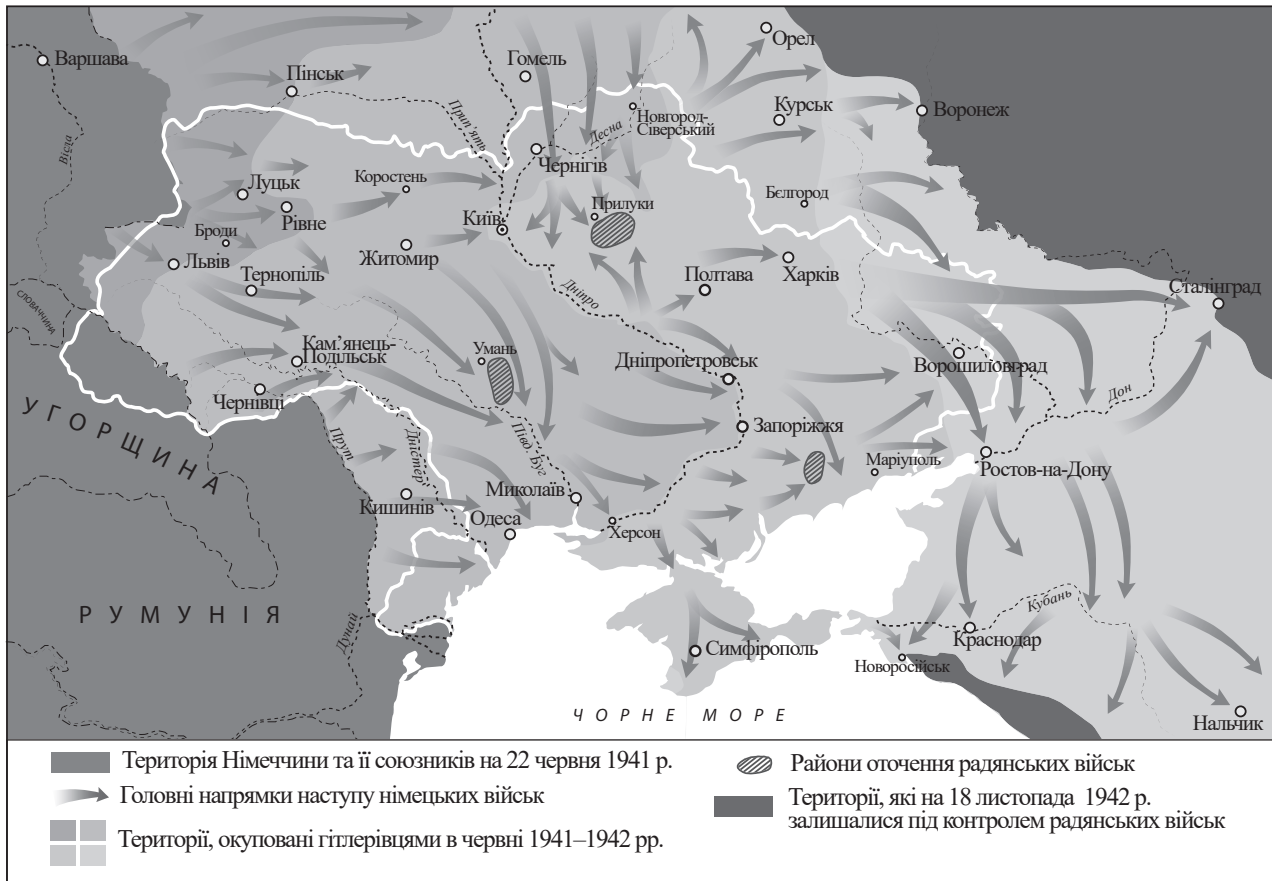
11. Хто є автором цитованого документа?

- А С. Бандера
- Б А. Волошин
- В Є. Петрушевич
- Г А. Шептицький

12. Документ створено

- А 1919 р.
- Б 1921 р.
- В 1923 р.
- Г 1925 р.

13. Що стало наслідком подій, відображених на картосхемі?



- А розширення кордонів УРСР
- Б придушення українського руху Опору
- В утворення незалежної Української Держави
- Г установлення окупаційного режиму на території УРСР

14. У роки радянсько-німецької війни «чорносвітниками» називали

- А учасників збройних формувань українського визвольного руху 1939–1945 рр.
- Б українських селян, яких відправляли на примусові роботи до Німеччини в 1941–1944 рр.
- В мобілізованих на території України польовими військкоматами до лав Червоної армії в 1943–1944 рр.
- Г військовослужбовців-українців, що потрапили до німецького полону в 1941–1942 рр.

15. Однією з подій українського визвольного руху 1944–1950-х рр. є

- А виникнення «Поліської Січі».
- Б утворення Української повстанської армії (УПА).
- В сформування й діяльність Української головної визвольної ради (УГВР).
- Г проголошення Акта відновлення Української Держави.

**Проаналізуйте фрагмент історичного документа
та виконайте завдання 16–18 до нього.**

«Поява шкідливого нарисів історії української літератури об'єктивно допомагає найлютішим ворогам українського народу – українсько-німецьким націоналістам. Президія Спілки та її голова т. Рильський не вжили заходів, щоби вчасно перешкодити проникненню в радянську літературу ворожих тенденцій... Журнал “Вітчизна” (ред. Яновський) надає місце статтям і творам, які пройняті буржуазною ідеологією, міщанськими поглядами на життя, аполітичністю...»

16. У який період радянської історії України оприлюднено цитований документ?

- А** у роки Другої світової війни
- Б** у перші роки повоєнної відбудови
- В** у роки «хрущовської» десталінізації
- Г** у роки загострення кризи радянської системи

17. Проявом якої політики партійно-радянського керівництва УРСР є наведений уривок документа?

- А** «коренізації»
- Б** «ждановщини»
- В** «лисенківщини»
- Г** «культурної революції»

18. «Перешкоджання проникненню в радянську літературу ворожих тенденцій» здійснено для

- А** знищення української інтелігенції.
- Б** приховування провалу заходів відбудови.
- В** пришвидшення радянзації Західної України.
- Г** посилення державного ідеологічного контролю над духовним життям суспільства.

19. Укажіть один з осередків шістдесятників в Україні.


- А** Меджліс кримськотатарського народу в Сімферополі
- Б** Українська робітничо-селянська спілка у Львові
- В** Організація українських націоналістів у Відні
- Г** Клуб творчої молоді «Сучасник» у Києві

20. Яке поняття доцільно використати для характеристики стану економіки УРСР в 1970-ті – на початку 1980-х рр.?

- А** «відбудова»
- Б** «лібералізація»
- В** «застій»
- Г** «перебудова»

21. На фото зображено видатного українського

- А актора.
- Б художника.
- В композитора.
- Г оперного співака.



22. Протест шахтарів УРСР 1989 р.

- А примусив владу до люстрування.
- Б переріс у загальноукраїнський страйк.
- В став приводом до «революції на граніті».
- Г започаткував відродження дисидентського руху.

23. Проаналізуйте уривок з історичного джерела:

«О 10.00 відкрито сесію Верховної Ради України, виступив Олександр Турчинов і заявив: “Більшість виконувачів обов’язків міністрів зникли в невідомому напрямку. Також невідомо, де перебуває президент. Тому єдиним легітимним органом у країні є Верховна Рада. Якщо впродовж декількох годин не буде встановлено місцезнаходження президента, парламент має проголосувати за постанову про відновлення конституційного ладу”».

Коли відбулася подія, про яку йдеться в ньому?

- А 1999 р.
- Б 2004 р.
- В 2008 р.
- Г 2014 р.

У завданнях 24–26 до кожного з чотирьох рядків інформації, позначених цифрами, доберіть один правильний, на Вашу думку, варіант, позначений буквою. Поставте позначки в таблицях відповідей до завдань у бланку А на перетині відповідних рядків (цифри) і колонок (букви). Усі інші види Вашого запису в бланку А комп’ютерна програма реєструватиме як помилки!

Будьте особливо уважні під час заповнення бланка А!

Не погіршуйте власноручно свого результату неправильною формою запису відповідей

24. Увідповідніть країну, до складу якої в 1920–1930-ті рр. входили українські землі, з подією / явищем.

- | | | | |
|---|-----------------|---|--|
| 1 | Польща | А | проголошення автономії Підкарпатської Русі (Карпатської України) |
| 2 | Румунія | Б | проведення «пацифікації» |
| 3 | Чехословаччина | В | Татарбунарське повстання |
| 4 | Радянський Союз | Г | Голодомор – геноцид українського народу |
| | | Д | загибель Є. Коновальця в результаті терористичного акту, організованого радянськими органами держбезпеки |

	А	Б	В	Г	Д
1					
2					
3					
4					

25. Увідповідніть подію з її наслідком.

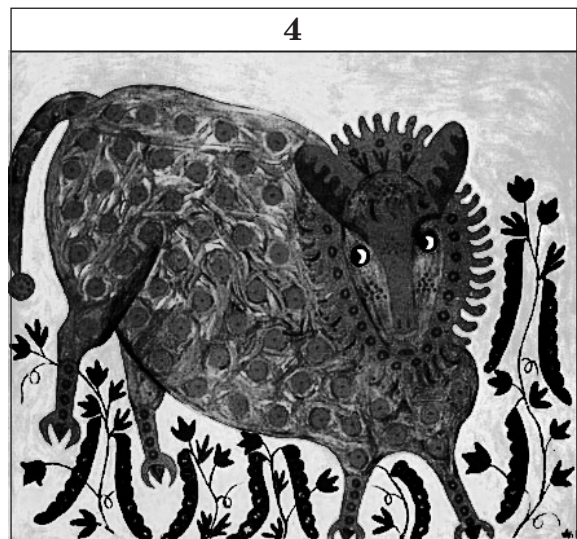
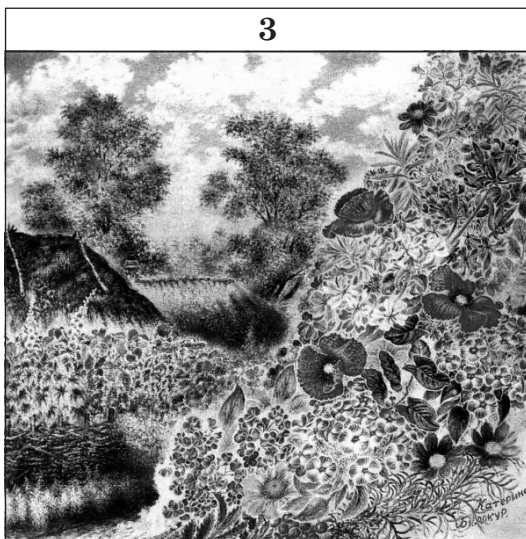
- 1 перші альтернативні вибори до Верховної Ради УРСР
- 2 спроба державного перевороту в СРСР
- 3 «Революція Гідності»
- 4 російська збройна агресія проти України

А Б В Г Д

1					
2					
3					
4					

- А укладення Мінських угод
- Б ухвалення Верховною Радою УРСР Акта проголошення незалежності України
- В підписання Україною Угоди про асоціацію з Європейським Союзом (ЄС)
- Г ухвалення Верховною Радою УРСР Декларації про державний суверенітет України
- Д створення Меджлісу кримськотатарського народу

26. Установіть авторство зображених на фото картин.



- А М. Примаченко
- Б Т. Яблонська
- В М. Самокиш
- Г К. Білокур
- Д В. Касіян

А Б В Г Д

1					
2					
3					
4					

У завданнях 27 і 28 розташуйте події в хронологічній послідовності. Поставте позначки в таблицях відповідей до завдань у бланку А на перетині відповідних рядків (цифри) і колонок (букви). Цифри 1 має відповідати вибрана Вами перша подія, цифри 2 – друга, цифри 3 – третя, цифри 4 – четверта. Усі інші види Вашого запису в бланку А комп'ютерна програма реєструватиме як помилки!

Будьте особливо уважні під час заповнення бланка А!

Не погіршуйте власноручно свого результату неправильною формою запису відповідей

27. Установіть послідовність подій, описаних в уривках з історичних джерел періоду боротьби за відновлення державності України.

- А** *«Кіннота Будьоного серпом урізалася в польський фронт... Київ відрізано, фронт польської армії розколовся надвоє й покотився на захід...»*
- Б** *«...група генерала Кравса ранком 31 серпня рушила колоною через Київ... Одночасно зі сходу в Київ почали входити денікінські війська під командуванням генерала Бредова... Коли голова колони українських військ вийшла на Хрещатик, то денікінські частини, увійшовши на цю вулицю з протилежного боку, відкрили кулеметний вогонь...»*
- В** *«Я був при УГА. Мені прийшлося бачити її перехід на Велику Україну. Цей перехід відбувався в значно скрутнішій ситуації, ніж могло б це бути місяць тому...»*
- Г** *«Ми вигнали німців та їхнього “гетьмана” з України. Але ми були знесилені, нам треба було спокою хоч на час, щоби зібрати свої сили, щоби закріпити свою відбиту самостійність...»*


	А	Б	В	Г
1				
2				
3				
4				

28. Розташуйте зображені карикатури за часом створення їх.



А вам у раднаргоспі робити нема чого.

А



Малый бизнес.

Б



*Генетика формальна.
Схоластика звичайна.
Кабінетна флора.*

*- Через ці кімнатні рослини, професоре,
Вам не видно мічурінського саду.*

В



*Ні екстремізму!
Ні конфронтації!
Немає ковбаси!
Немає житла!
Немає мила!
Немає щастя в житті!
Ні війни!
Ні насиллю!*

Г

А Б В Г

1				
2				
3				
4				

Завдання 29 і 30 мають по сім варіантів відповідей, з яких лише три правильні. Виберіть три цифри, що позначають правильні, на Вашу думку, відповіді, та запишіть їх у *бланку А* згідно з інструкцією. Порядок написання цифр значення не має. Для виправлення помилково вказаної відповіді запишіть новий варіант відповіді (три цифри) у спеціально відведеному місці *бланка А*. Не робіть інших записів у *бланку А*, тому що комп'ютерна програма реєструватиме їх як помилки!

Будьте особливо уважні під час заповнення *бланка А*!
Не погіршуйте власноручно свого результату неправильною формою запису відповідей

29. Які із зазначених понять дають змогу схарактеризувати колективізацію сільського господарства в УСРР?

- 1 «розстріляне відродження»
- 2 «соціалістичний реалізм»
- 3 «розкуркулення»
- 4 «українізація»
- 5 «паспортна система»
- 6 «чорна дошка»
- 7 «продрозверстка»

30. Укажіть три «надпрограми» М. Хрущова.

- 1 освоєння цілих земель
- 2 ліквідація колгоспної системи
- 3 розширення посівів кукурудзи
- 4 поширення фермерських господарств
- 5 створення машинно-тракторних станцій
- 6 упровадження «Продовольчої програми»
- 7 реалізація заходів з випередження США у виробництві м'яса й молока на душу населення

Ви завершили роботу над завданнями частини 1.
Перевірте правильність перенесення своїх відповідей у *бланк А*.
Пам'ятайте!

Результат виконання завдань частини 1 буде зараховано як результат державної підсумкової атестації

Частина 2

Історія України від найдавніших часів до кінця ХІХ століття


Завдання 31–53 мають по чотири варіанти відповіді, з яких лише один правильний. Виберіть правильний, на Вашу думку, варіант відповіді, позначте його в бланку А згідно з інструкцією. Не робіть інших позначок у бланку А, тому що комп'ютерна програма реєструватиме їх як помилки!

Будьте особливо уважні під час заповнення бланка А!

Не погіршуйте власноручно свого результату неправильною формою запису відповідей

31. Елементами оздоблення археологічної пам'ятки, зображеної на фото, є фігурки воїнів –

- А скіфів.
- Б греків.
- В сарматів.
- Г кіммерійців.



32. На картосхемі стрілками позначено

- А торговельний шлях «із варягів у греки».
- Б напрямок набігів кочівників на слов'янські племена.
- В шлях здійснення полюддя першими київськими князями.
- Г похід київського князя Володимира Великого на Червенські міста.



33. Після смерті Ярослава Мудрого в Київській державі

- А утворено триумвірат князів.
- Б започатковано «шлюбну дипломатію».
- В усунуто від влади династію Рюриковичів.
- Г підпорядковано Київського митрополита Константинопольському патріарху.

34. У якому князівстві родове боярство наважилося оголосити князем одного з бояр?

- А Галицькому
- Б Волинському
- В Переяславському
- Г Чернігово-Сіверському

35. Мешканці міст з Магдебурським правом

- А відробляли панщину й платили оброк.
- Б користувалися перевагами самоврядування.
- В брали участь у виборах короля Речі Посполитої.
- Г мали бути прихожанами лише православної церкви.

36. Яка пам'ятка, зображена на фото, є перлиною історично-архітектурної спадщини Волині?



А



Б



В



Г

37. Затвердження в 70-х рр. XVI ст. урядом Речі Посполитої реєстрового війська стало політичним і правовим актом

- А об'єднання польської шляхти та козацтва.
- Б визнання козацтва як нового соціального стану.
- В припинення масового покозачення селян і міщан.
- Г завершення польсько-українського протистояння.

38. З митрополитом Петром Могилою пов'язано

- А укладення унії православної та католицької церков.
- Б надання ставропігії Львівському Успенському братству.
- В об'єднання Лаврської школи та Київської братської школи в колегію.
- Г заснування першої на українських землях слов'яно-греко-латинської школи.

**Проаналізуйте фрагмент історичного документа
та виконайте завдання 39–41 до нього.**

«Він (гетьман) з'єднався в полі вище Базавлука з мурзою Тугай-беєм і вже хотів був іти зі своїм військом просто на Чигирин, щоби привітати головного свого ворога Чаплинського.

Однак від пійманців, яких перестріли на січовому шляху татари, він довідався, що польські війська та [реєстровців] уже відправлено: одних – водою до Кодака, а інших – сучодолом через Крилов на Жовту Воду й також до Кодака...»

39. Події, описані в історичному джерелі, відбулися

- А 1648 р.
- Б 1649 р.
- В 1651 р.
- Г 1652 р.

40. Укажіть портрет гетьмана, діяльність якого описав у документі сучасник подій.



А



Б



В



Г

41. Описані в документі події привели до

- А прийняття «Ординації Війська Запорозького...».
- Б підписання мирної угоди з Московською державою.
- В заборони козацьким загонам перебувати на Запорозькій Січі.
- Г початку звільнення українських земель від польського панування.

42. Наведена картосхема дає змогу визначити райони, охоплені повстанням проти гетьмана



- А Павла Тетері.
- Б Івана Виговського.
- В Івана Брюховецького.
- Г Дем'яна Многогрішного.

43. Який орган влади керував Гетьманщиною після смерті Данила Апостола?

- А Малоросійський приказ
- Б Перша малоросійська колегія
- В Правління гетьманського уряду
- Г Друга малоросійська колегія


44. Відомий український історик Д. Дорошенко вважав, що «...гайдамацтво як форму активного протесту проти несприятливих умов суспільного ладу знали також і західноукраїнські землі – Галичина й Буковина».

Такий висновок історик зробив, дослідивши


- А «весну народів».
- Б «рух опришків».
- В повстання під проводом С. Палія.
- Г повстанський рух під проводом У. Кармалюка.

45. Укажіть одну з основних причин збільшення у 25 разів посівних площ зернових на Півдні підросійської України в період 1778–1851 рр.
- А руйнування селянської громади
 - Б поширення кооперативного руху
 - В розбудова чорноморсько-азовських портів
 - Г надання кредитної допомоги селянам через Селянський банк
46. Слова Т. Шевченка *«Спасибі тобі, Богу милий друже мій великий... за “Чорну раду”*. Я вже її двічі прочитав і третій раз, і все-таки не скажу більше нічого, як спасибі. Добре, дуже добре ти зробив, що подарував “Чорну раду” *по-нашому»* адресовано
- А П. Кулішу.
 - Б В. Антоновичу.
 - В М. Костомарову.
 - Г І. Котляревському.
47. У 1772 р. Галичина увійшла до складу володінь австрійських Габсбургів у результаті
- А австро-турецької війни.
 - Б поділу Речі Посполитої.
 - В наполеонівських війн у Європі.
 - Г перетворення Австрійської імперії на Австро-Угорську монархію.
48. *«Університет [...] – моє творіння. Але я першим ліквідую його, якщо він не виконуватиме свої мети поширювати російську освіту й російську національність в ополяченому краю Західної Росії»*, – так міністр освіти Російської імперії С. Уваров писав про завдання
- А Київського університету.
 - Б Харківського університету.
 - В Чернівецького університету.
 - Г Новоросійського університету.
49. Яким роком датовано документ, уривок з якого наведено: *«...Користуючись цим земельним наділом, селянин має виконувати [повинності] на користь поміщикам... У цьому стані, що є перехідним, селянина іменують тимчасово-зобов’язаним»?*
- А 1848 р.
 - Б 1861 р.
 - В 1870 р.
 - Г 1876 р.


50. Укажіть світлину із зображенням композитора, музика якого стала основою Державного Гімну України.



А



Б



В



Г

51. Чому в школах Галичини на початку ХХ ст. була обов'язковою для вивчення німецька мова?

- А регіон був окупований військами кайзера Німеччини
- Б із середніх віків у містах краю були великі німецькі колонії
- В німецька мова на той час була мовою загальноєвропейського спілкування
- Г край уходив до складу Австро-Угорщини, де державною мовою була німецька

52. Проаналізуйте уривок з історичного джерела:

«Із цього часу зазначені землі звільнено від обмежень, які лежали на них; у силу викупного боргу селяни дістають право вільного виходу з громади із закріпленням у власність окремих домохозяїв ділянок, які переходять до приватного володіння з громадського наділу...».

Хто був ініціатором упровадження зазначених заходів?

- А П. Валуєв
- Б Б. Ханенко
- В П. Столипін
- Г В. Смиренко

53. Що стало однією з причин зростання трудової еміграції українців на початку ХХ ст.?

- А початок промислового перевороту
- Б зростання чисельності населення в містах
- В малоземелля та безземелля селянських родин
- Г підписання міграційних договорів між країнами

У завданнях 54–56 до кожного з чотирьох рядків інформації, позначених цифрами, доберіть один правильний, на Вашу думку, варіант, позначений буквою. Поставте позначки в таблицях відповідей до завдань у бланку А на перетині відповідних рядків (цифри) і колонок (букви). Усі інші види Вашого запису в бланку А комп'ютерна програма реєструватиме як помилки!

Будьте особливо уважні під час заповнення бланка А!

Не погіршуйте власноручно свого результату неправильною формою запису відповідей

54. Установіть відповідність між датою та подією, описаною в уривку джерела.

- 1 1223 р.
- 2 1238 р.
- 3 1245 р.
- 4 1253 р.

А *«Данило вийшов з військом із Холма та на третій день став у Галичі... увійшов у свій город... та прийняв стіл батька, та проголосив перемогу, заткнувши свою хоругву на Німецьких воротах...»*

Б *«У той же час прислав Папа послів достойних, що принесли Данилові вінець, і скіпетр, і корону, які означають королівський сан, кажучи: “Сину! Прийми од нас вінець королівства...”»*

В *«На річці Калці татари встріли їх, війська половецькі й руські. Мстислав Мстиславич тим часом повелів Данилові попереду перейти з полками річку Калку... Коли зітнулися війська між собою, то Данило виїхав наперед... Ударили вони в полки татарські... Данило поранений був у груди...»*

Г *«І коли побачив Данило, що ляхи кріпко йдуть на Василька..., то рушив на [них]... і розтропив військо [ляхів], і хоругов [їхніх] роздер навпіл. Побачивши ж це, Ростислав побіг, і повернули угри навікача...»*

	А	Б	В	Г	Д
1					
2					
3					
4					

Д *«У той же час поїхав був Данило в Угри до короля (Бели), бо він іще не чув про прихід татар на Київ. А коли Батий узяв Київ і почув він про Данила, що той в Уграх є, то рушив сам до (города) Володимира...»*

55. Установіть відповідність між іменем гетьмана та подією, що з ним пов'язана.

- 1 П. Дорошенко
- 2 Ю. Хмельницький
- 3 І. Самойлович
- 4 І. Мазепа

А укладення українсько-шведської антимосковської угоди

Б ухвалення протекторату Османської імперії

В Чигиринські походи османсько-кримсько-татарської армії

Г здійснення «Великого згону»

Д створення найманого війська компанійців

	А	Б	В	Г	Д
1					
2					
3					
4					

56. Установіть відповідність між явищем / процесом та його наслідком.

- | | | | |
|---|---|---|---|
| 1 | декабристський рух в Україні | А | утворення Кирило-Мефодіївського братства |
| 2 | французько-російська війна 1812–1814 рр. | Б | формування козацьких полків і земського ополчення |
| 3 | російсько-турецька війна 1828–1829 рр. | В | повстання Чернігівського полку |
| 4 | українське національне відродження в Наддніпрянщині | Г | поділи Речі Посполитої |
| | | Д | ліквідація Задунайської Січі |

	А	Б	В	Г	Д
1					
2					
3					
4					

У завданнях 57 і 58 розташуйте події в хронологічній послідовності. Поставте позначки в таблицях відповідей до завдань у *бланку А* на перетині відповідних рядків (цифри) і колонок (букви). Цифрі 1 має відповідати вибрана Вами перша подія, цифрі 2 – друга, цифрі 3 – третя, цифрі 4 – четверта. Усі інші види Вашого запису в *бланку А* комп'ютерна програма реєструватиме як помилки!

Будьте особливо уважні під час заповнення *бланка А*!

Не погіршуйте власноручно свого результату неправильною формою запису відповідей

57. Установіть послідовність битв XIV–XVII ст.

- А біля міста Конотоп
- Б біля міста Пилявці
- В біля річки Сині Води
- Г біля міста Орша

	А	Б	В	Г
1				
2				
3				
4				

58. Установіть послідовність козацьких повстань у першій половині XVII ст.

- А під проводом Т. Федоровича
- Б під проводом І. Сулими
- В під проводом П. Павлюка
- Г під проводом М. Жмайла

	А	Б	В	Г
1				
2				
3				
4				

Завдання 59 і 60 мають по сім варіантів відповідей, з яких лише три правильні. Виберіть три цифри, що позначають правильні, на Вашу думку, відповіді, та запишіть їх у *бланку А* згідно з інструкцією. Порядок написання цифр значення не має. Для виправлення помилково вказаної відповіді запишіть новий варіант відповіді (три цифри) у спеціально відведеному місці *бланка А*. Не робіть інших записів у *бланку А*, тому що комп'ютерна програма реєструватиме їх як помилки!

Будьте особливо уважні під час заповнення *бланка А*!
Не погіршуйте власноручно свого результату неправильною формою запису відповідей

59. Які наслідки події, описаної в уривку з джерела:

«І тоді єпископ корсунський зі священниками хрестили Володимира. Хрестився же він у церкві Святої Софії. А стоїть ця церква на високому місці посеред міста...»?

- 1 укладення династичного союзу Русі з Візантією
- 2 укладення першого договору Русі з Візантією
- 3 припинення функціонування шляху «з варягів у греки»
- 4 поява кам'яної церковної архітектури
- 5 оформлення візантійського протекторату над Руссю
- 6 припинення здійснення київськими князями полюддя
- 7 запровадження християнства як державної релігії

60. Укажіть діячів українського професійного театру.

- 1 М. Кропивницький
- 2 В. Смирненко
- 3 М. Садовський
- 4 І. Пулюй
- 5 М. Заньковецька
- 6 І. Труш
- 7 Д. Яворницький

Ви завершили роботу над завданнями частини 2.
Перевірте правильність перенесення своїх відповідей у *бланк А*.
Якщо час, відведений на виконання завдань частин 1 і 2, сплив,
здайте *бланк А* інструктору

Кінець зошита